

# Методический аппарат

## Задания к главам

### Введение. «Цена Победы» или цена войны?

1. Что означает выражение «цена победы»? Какие мнения существуют на этот счет?

---

---

---

## Часть I. Масштабы ущерба

### 1. Людские потери

1.1. Людские потери. Заполните таблицу и ответьте на вопрос «Каким образом осуществлялся подсчет людских потерь?»

Годы	Обнародованное число человеческих жертв
1946	
1960-е	
1970-е	
современная оценка	

Ваш ответ:

---

1.2. Сформулируйте:

а) Суть секретного распоряжения «О применении военной подслушности в районе «Барбаросса» и об особых мерах войск»

---

---

---

б) Время и место издания распоряжения

---

---

---

г) Каким образом, на Ваш взгляд, секретное распоряжение повлияло на ход войны?

---

---

---

1.3. Приведите определения:

А) Прямые потери — \_\_\_\_\_

---

---

## Методический аппарат

---

Б) Косвенные потери — \_\_\_\_\_

\_\_\_\_\_

\_\_\_\_\_

1.4. Когда состоялся Нюрнбергский процесс и какие обвинения были предъявлены к бывшим руководителям гитлеровской Германии?

А. \_\_\_\_\_

Б. \_\_\_\_\_

В. \_\_\_\_\_

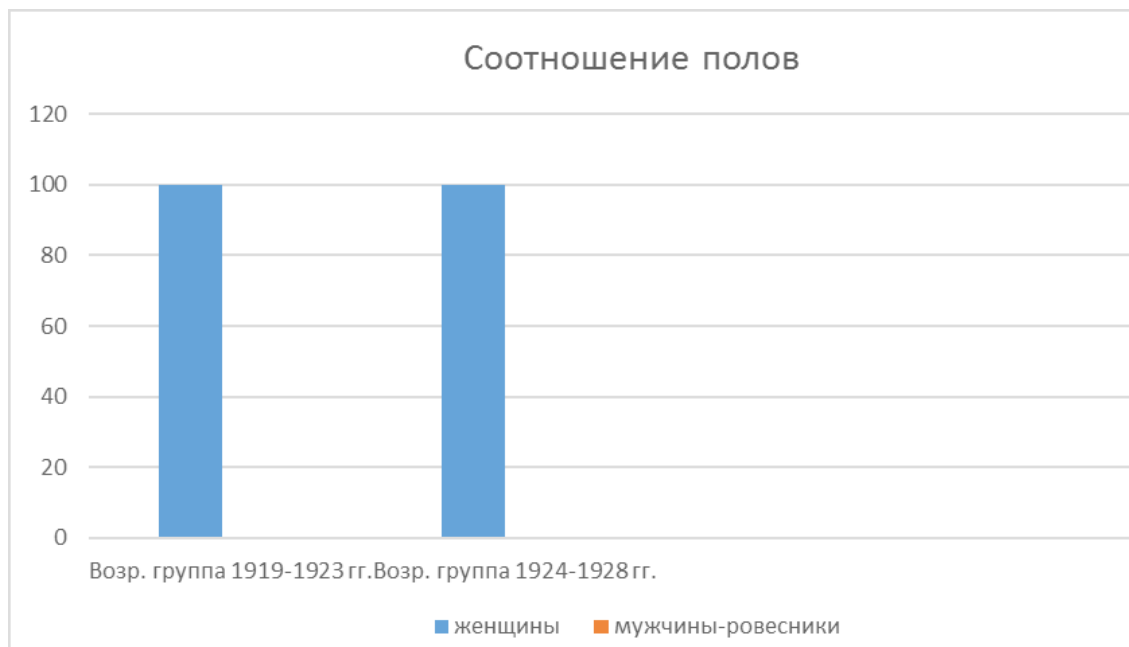
Г. \_\_\_\_\_

1.5. Социальные последствия войны. Заполните таблицу:

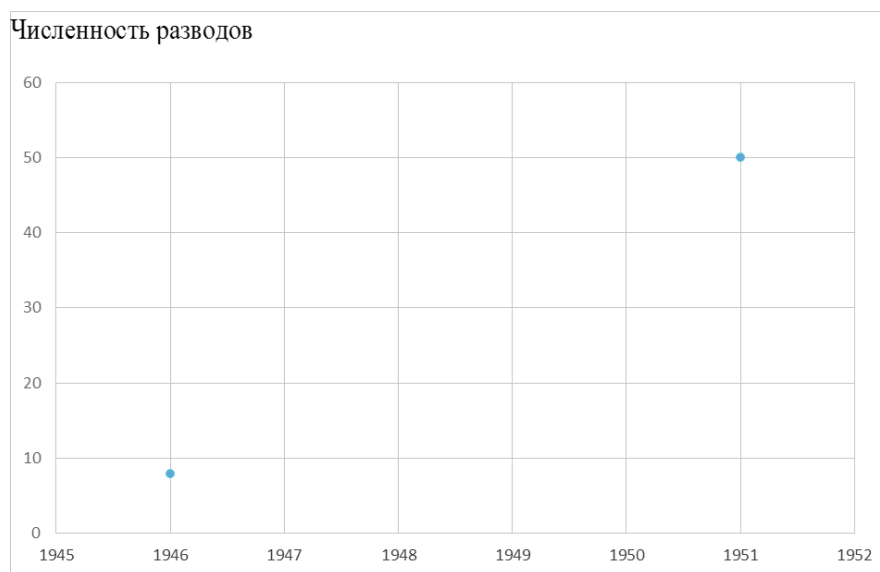
Сферы	Причины кризисных явлений	В чем проявлялись?	Способы преодоления
демографическая ситуация			
проблемы, связанные со здоровьем			

1.6. Демографические изменения.

а) Нанесите на диаграмму столбцы, которые будут отражать процент мужского населения.



б) Выстройте график изменения количества разводов. Как Вы думаете, с чем связана эта тенденция?



Ваш ответ:

---

---

---

1.7. Привлекая дополнительные материалы, обозначьте на карте города-герои СССР:



## 2. Потери Красной Армии и Военно-морского флота

2.1. Как осуществлялся подсчет потерь личного состава Красной Армии и Военно-морского флота?

Руководство	Время (год)	Документы и источники

2.2. Приведите определения:

а) Безвозвратные потери —

---

---

---

б) Санитарные потери —

---

---

---

в) Демографические потери —

---

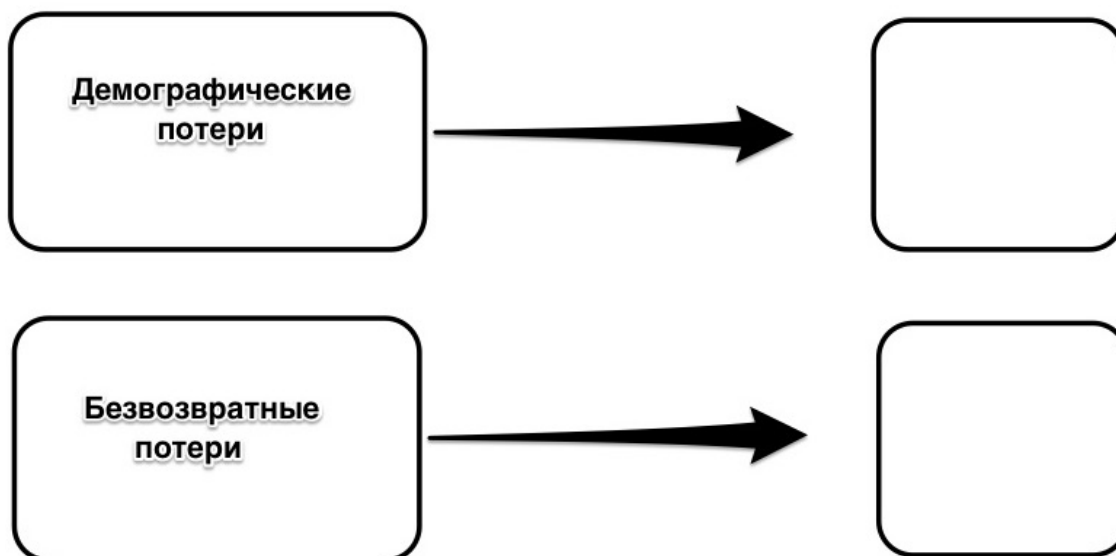
---

---

2.3. Подсчет потерь Красной Армии Г.Ф. Кривошеева. Заполните таблицу:

	Виды потерь	
1		5,2268 млн
2		1,1028
3		0,5555
4		1,7833
	<b>Итого (Демографические потери)</b>	
5		4,559
	Из них:	
		0,9397
		1,8369
	<b>Итого (Безвозвратные потери)</b>	

2.4. Укажите примерное число демографических и безвозвратных потерь:



2.5. Какие трудности встают при подсчете? Назовите три и более причины

---



---



---

### 3. Материальные потери

3.1. Укажите четыре основные категории экономического ущерба для СССР:

1.	2.	3.	4.
----	----	----	----

3.2. Определите, с чем, прежде всего, был связан ущерб, нанесенный гитлеровской Германией и ее сателлитами народному хозяйству СССР:

---



---



---

3.3. Приведите данные. На оккупированной фашистами территории СССР полностью или частично было разрушено и разграблено:

Заводы, фабрики и другие промышленные предприятия	
Совхозы	

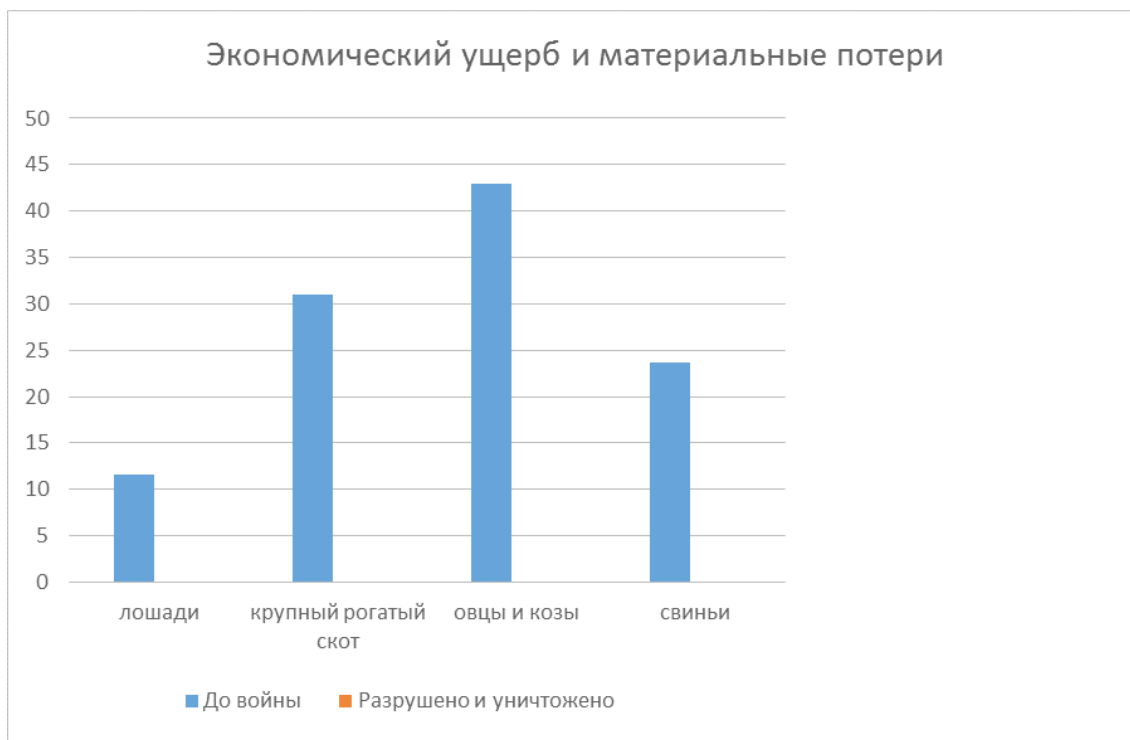
---

аппарат


---

Машинно-тракторные станции	
Магазины, столовые, рестораны и другие торговые предприятия	
Железнодорожные станции	
Почтово-телеграфные учреждения, радиостанции и другие предприятия связи	
Больницы	
Поликлиники, диспансеры и амбулатории	
Санатории и дома отдыха	
Начальные и средние школы	
Специальные учебные заведения	
Высшие учебные заведения	
Научно-исследовательские институты и другие научные учреждения	
Музеи	
Библиотеки общественного пользования	
Театры	

3.4. Сельское хозяйство. Отрадите на диаграмме ущерб, нанесенный отрасли животноводства во время войны:



3.5. Укажите на круговой диаграмме, какую часть довоенного имущества Советский Союз потерял на оккупированных территориях:



3.6. Привлекая дополнительные источники, ответьте на вопрос «Какие попытки предпринимало государство для преодоления послевоенного кризиса?»:

---

---

---

#### 4. Культурные ценности

4.1. Назовите некоторые специальные организации, задачей которых был отбор и вывоз на территорию Германии культурных ценностей:

Название и руководство	Время создания	Отделения на территории СССР	Название главных рабочих групп

4.2. Какой комплекс мер был предпринят Советским Союзом в целях компенсации культурных утрат после Великой Отечественной войны?

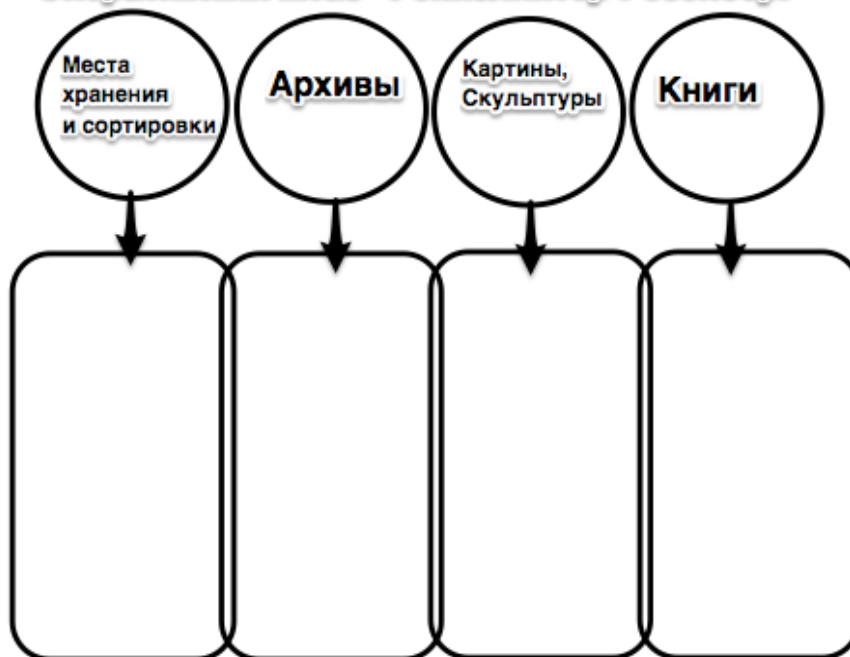
---

---

---

4.3. Укажите, куда поступали вывезенные культурные ценности на территории самой Германии:

### Оперативный штаб "Рейхсляйтер Розенберг"



4.4. Пользуясь дополнительными материалами, назовите некоторые культурные ценности, подвергшиеся разграблению во время Великой Отечественной войны:

Культурные ценности	Организации	Были ли возвращены?

## 5. Соотношение потерь вооруженных сил СССР и Германии

5.1. В чем состоят основные трудности оценивания соотношения потерь вооруженных сил СССР и Германии? Попробуйте сформулировать свой ответ не более чем в пяти предложениях:

---

---

---

5.2. Назовите одного отечественного и одного немецкого исследователей, занимавшихся подсчетом потерь вооруженных сил Германии:

исследователи	источники	оценки и выводы

5.3. Какие методики существуют для подсчета потерь? В чем состоит задача историка при работе со статистическим материалом? Приведите один пример ошибочного подсчета.



5.4. Составьте сводную таблицу потерь во время второй мировой войны:

Страны	Количество потерь
СССР	
Германия	
США	
Англия	

### Обобщающие задания

1. Основные события Великой Отечественной войны. Заполните таблицу:

1941	<hr/> <hr/> <hr/> <hr/> <hr/> <hr/> <hr/> <hr/>
1942	<hr/> <hr/> <hr/> <hr/> <hr/> <hr/> <hr/> <hr/>
1943	<hr/> <hr/> <hr/> <hr/> <hr/> <hr/> <hr/> <hr/>
1944	<hr/> <hr/> <hr/> <hr/> <hr/> <hr/> <hr/> <hr/>
1945	<hr/> <hr/> <hr/> <hr/> <hr/> <hr/> <hr/> <hr/>

**2. Вставьте слова, чтобы составить верное утверждение:**

- А) Из общего числа людских потерь Советского Союза подавляющее большинство составляют \_\_\_\_\_.
- Б) 2 млн 164 тыс. человек из числа \_\_\_\_\_ погибли в фашистской неволе.
- В) Беспрецедентным в истории преступлением стала попытка нацистов умертвить население огромного города голодом и артиллерийскими обстрелами в ходе блокады \_\_\_\_\_.
- Г) К началу 1943 года под оккупацией находилось около 1,9 млн км территории, на которой до войны проживало примерно \_\_\_\_\_ человек.
- Д) Из 2 567 тыс. жилых домов в городах СССР, испытавших оккупацию, было уничтожено и разрушено \_\_\_\_\_ домов, причём по размерам жилой площади это количество домов составляло свыше \_\_\_\_\_ всей городской жилой площади оккупированных городов.

**3. Оцените последствия потерь Великой Отечественной войны:**

Экономические	Демографические
_____	_____
_____	_____
_____	_____
_____	_____
_____	_____
_____	_____
_____	_____
_____	_____
_____	_____
_____	_____
_____	_____

**4. Как повлияло участие во Второй Мировой войне на дальнейшее развитие СССР? Приведите несколько ключевых аргументов:**

- А) \_\_\_\_\_
- Б) \_\_\_\_\_
- В) \_\_\_\_\_
- Г) \_\_\_\_\_

**5. Видны ли, по Вашему мнению, последствия войны сегодня? Какие уроки нужно извлечь из этих событий?**

\_\_\_\_\_

\_\_\_\_\_

\_\_\_\_\_

**6. Заполните таблицу и приведите собственные аргументы:**

<b>Значение победы</b>	<b>Цена победы</b>